
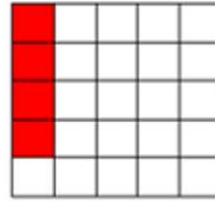




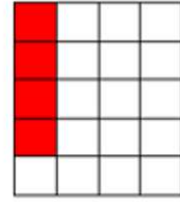
# Werkblad 1 – Blokjes en procenten



1



2



3

Zoals je ziet in de eerste figuur zijn een aantal hokjes rood gekleurd. Ook van figuur 2 en 3 zie je het aantal rood gekleurde hokjes.

a. Welk deel is rood gekleurd?

Figuur 1

Figuur 2

Figuur 3

b. Kun je de antwoorden op vraag a nog op andere manieren schrijven?

Figuur 1

Figuur 2

Figuur 3

c. Kun je een manier bedenken om van een deel (breuk) een percentage te maken?

## Reflectie

Wat heb je van deze les geleerd?

Welk idee van een medeleerlingen heeft je geholpen?